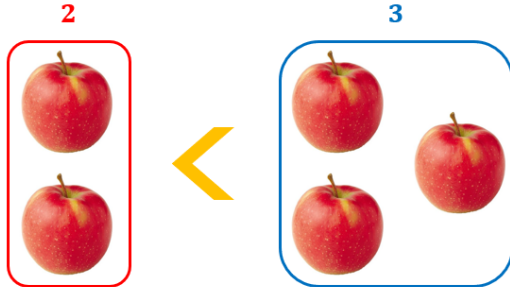


Kisebb, nagyobb, vagy egyenlő?

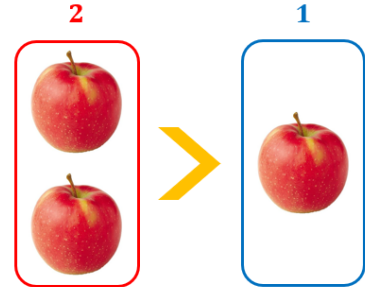
Kisebb, vagy nagyobb?



Jobb oldalon **több** alma van, mint a **bal** oldalon.
Bal oldalon **kevesebb** alma van, mint a **jobb** oldalon.

$$2 < 3$$

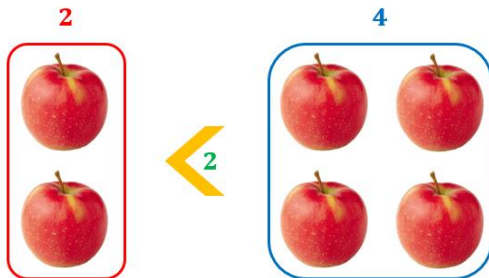
Mindig a kisebb felől mutat a nagyobb felé vagy a kevesebb felől a több felé



Bal oldalon **több** alma van, mint a **jobb** oldalon.
Jobb oldalon **kevesebb** alma van, mint a **bal** oldalon.

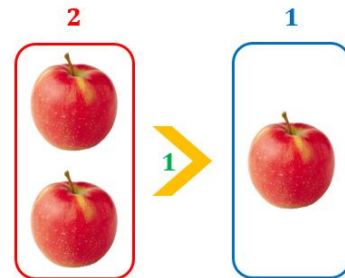
$$2 > 1$$

Mennyivel kisebb, vagy nagyobb?



Jobb oldalon **kettővel több** alma van, mint a **bal** oldalon.
Bal oldalon **kettővel kevesebb** alma van, mint a **jobb** oldalon.

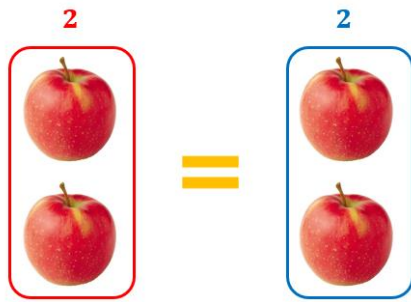
$$2 <_2 4$$



Bal oldalon **eggyel több** alma van, mint a **jobb** oldalon.
Jobb oldalon **eggyel kevesebb** alma van, mint a **bal** oldalon.

$$2 >_1 1$$

Egyenlő



Jobb oldalon ugyanannyi alma van, mint a **bal oldalon**.

Egyenlő alma van a **jobb oldalon** és a **bal oldalon**.

$$2 = 2$$

 Egyenlőségjel