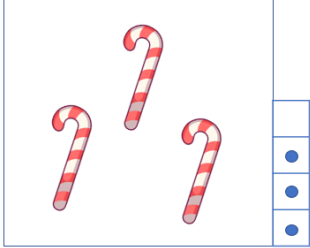








# Kisebb, nagyobb, vagy egyenlő?

1) Rajzoljunk annyi pöttyöt, ahány ábra van a keretben, és utána tegyük ki a megfelelő jelet közéjük (>, <, =)!

	<input type="checkbox"/>	
	<input type="checkbox"/>	

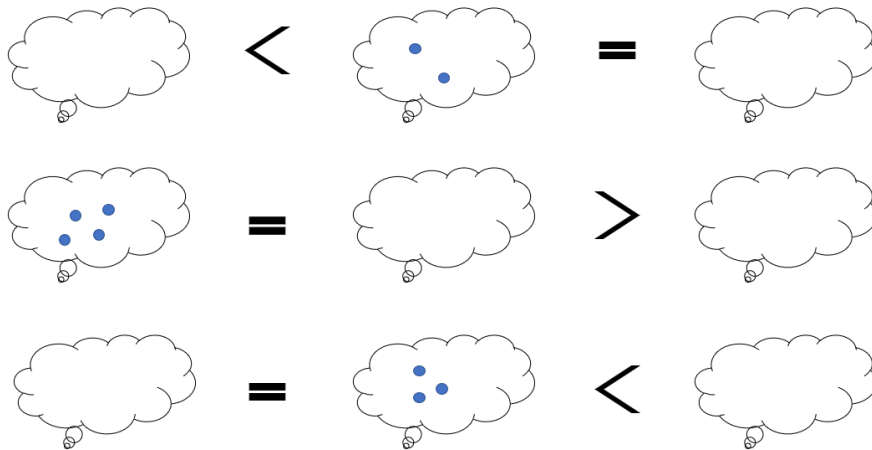
Tovább a feladathoz

2) Rajzoljunk annyi ábrát ahány pötty van, és tegyük ki a megfelelő jelet közéjük!

	<input type="checkbox"/>		<input type="checkbox"/>	
---	--------------------------	---	--------------------------	---

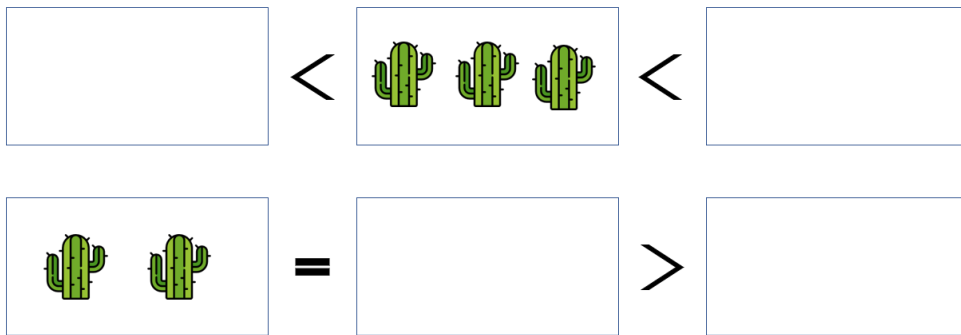
Tovább a feladathoz

3) Tegyük annyi pöttyöt a felhőkbe, hogy igaz legyen az állítás!



Tovább a feladathoz

4) Rajzoljunk a relációk szerint!



Tovább a feladathoz