

Nulla, egy, kettő

Nulla (0)

- 1) Rajzoljuk le a nulla számot!

Tovább a feladathoz

Egy (1)

- 2) Rajzoljuk le az egyes számot!

Tovább a feladathoz

Kettő (2)

- 3) Rajzoljuk le a kettes számot!

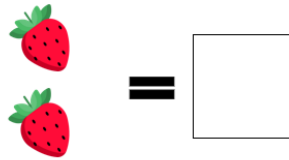
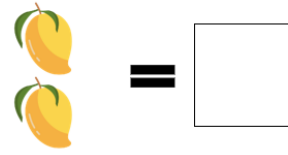
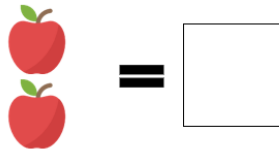
Tovább a feladathoz

- 4) Csoportosítsuk kettesével!



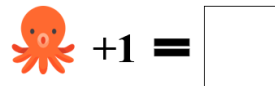
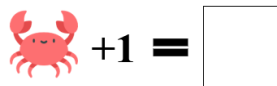
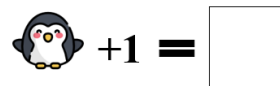
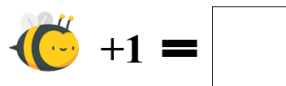
Tovább a feladathoz

5) Számoljuk össze a gyümölcsöket!



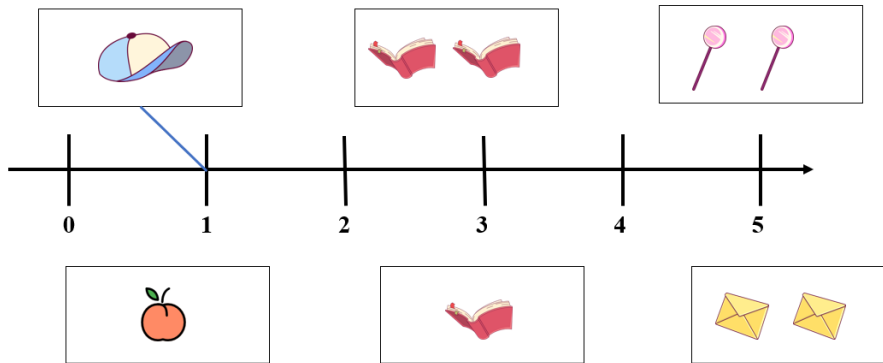
Tovább a feladathoz

6) Adjuk hozzá a megfelelő számokat az állatok számához!



Tovább a feladathoz

7) Kössük össze a képeket a számegeyenes megfelelő pontjával!



Tovább a feladathoz

Számegeyenes

8) Számegeyenes bemutatása

Tovább a feladathoz