

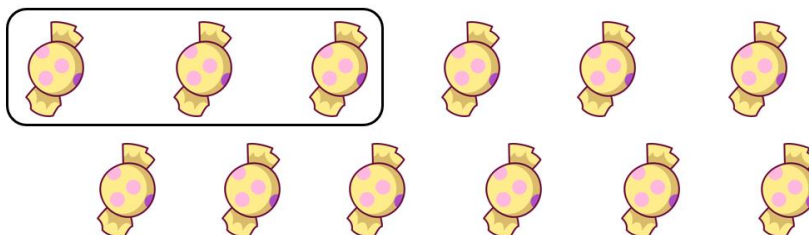
Három, négy

Három (3)

- 1) Rajzoljuk le a hármas számot!


Tovább a feladathoz

- 2) Csoportosítsuk hármasával!




Tovább a feladathoz

- 3) Egészítsük ki a rajzokat úgy, hogy mindenből 3 legyen!



Tovább a feladathoz

4) Számoljuk össze a gyümölcsöket!





Tovább a feladathoz

5) Adjuk hozzá a megfelelő számokat az állatok számához!



Tovább a feladathoz

6) Rajzoljunk a jeleknek megfelelően!



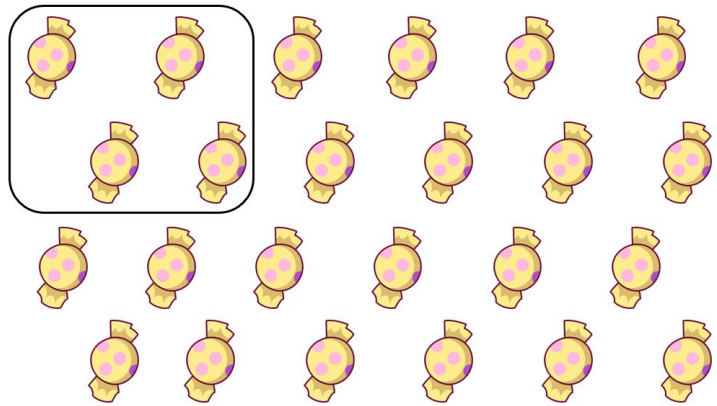
Tovább a feladathoz

Négy (4)

7) Rajzoljuk le a négyes számot!


Tovább a feladathoz

8) Csoportosítsuk négyesével!




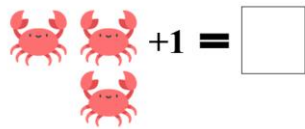

Tovább a feladathoz

9) Számoljuk össze a gyümölcsöket!



Tovább a feladathoz

10) Adjuk hozzá a megfelelő számokat az állatok számához!



Tovább a feladathoz

11) Pótoljuk ki a hiányzó számokat!

$1 < \square$

$3 = \square$

$2 > \square$

$4 > \square$

$3 < \square$

$3 > \square$

Tovább a feladathoz

12) Hány papagáj ér egy pelikánt?



Tovább a feladathoz