









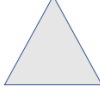


# Szabályok

1) Az etető körül eggyel több tehén van, mint malac. Töltsük ki a táblázat hiányzó részeit!

	4				
		3	1		4
				5	

Tovább a feladathoz



2) Melyik alakzat illik a hiányzó helyre!

Tovább a feladathoz



- 3) Az asztalon piros és kék poharak vannak, összesen 12. Hány piros és hány kék pohár lehet az asztalon?

Töltsük ki a táblázat hiányzó részeit!

	10	9		7		
	2		4		6	7


Tovább a feladathoz

- 4) Összesen 14 hal van az akváriumban, töltsük ki a táblázatot!

	9	8				5	
	5		7	4	2		10

Tovább a feladathoz

- 5) Töltsük ki a táblázatot a szabály szerint!

	6	8	12	9	7		8	5
	5	7				10	8	
	6		1	3	7	3		5

Tovább a feladathoz

- 6) Számoljuk ki és írjuk be a táblázatba a hiányzó adatokat!

+	9	3	5	8	7
10					
7					
9					

-	16	14	19	15	13
6					
7					
8					

Tovább a feladathoz

7) Töltsük ki a táblázatot!

a	b	c	a+b	c-b	c-a	a+b-c
7	6	10				
8	7	12				
9	8	14				
7	9	16				

Tovább a feladathoz

8) Pótoljuk ki a hiányzó számokat úgy, hogy minden sorban és oszlopban a 3-3 szám összege a megadott szám legyen!

		2
	8	
	1	7

15

7		10
	7	
4		

18

2		
	3	0
	7	

12

Tovább a feladathoz