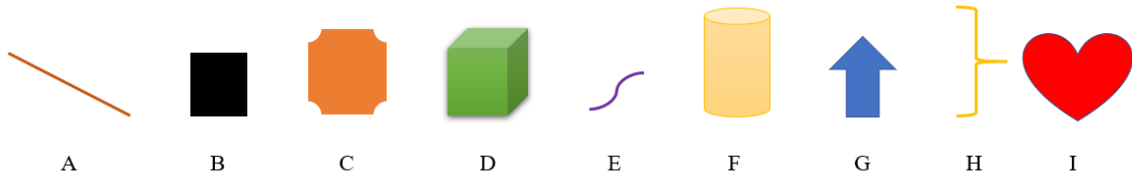


Síkidomok és testek

Síkidomok és testek

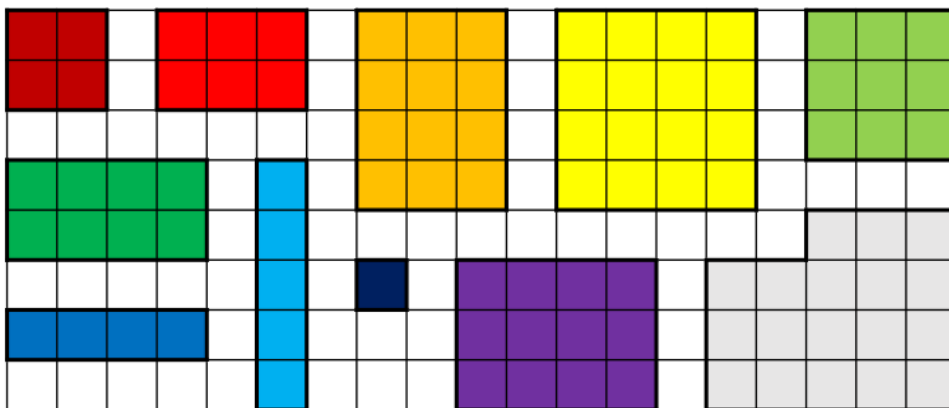
1) Írjuk be a megfelelő helyre az egyes ábrák betűjeleit!



Vonal	Síkidom	Test


Tovább a feladathoz

2) Döntsük el, hogy a különböző színű síkidomok négyzetek vagy téglalapok-e?



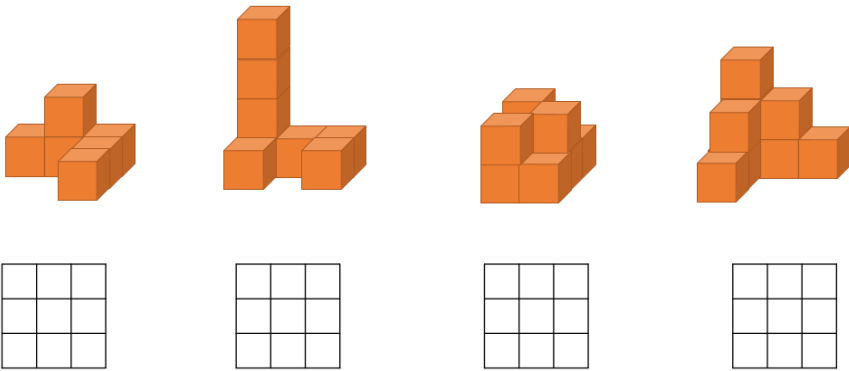
Tovább a feladathoz

3) Számoljuk össze a képen a körlapokat, a négyszögeket és a háromszögeket!



Tovább a feladathoz

4) Írjuk a négyzetekbe az adott oszlopok magasságát!



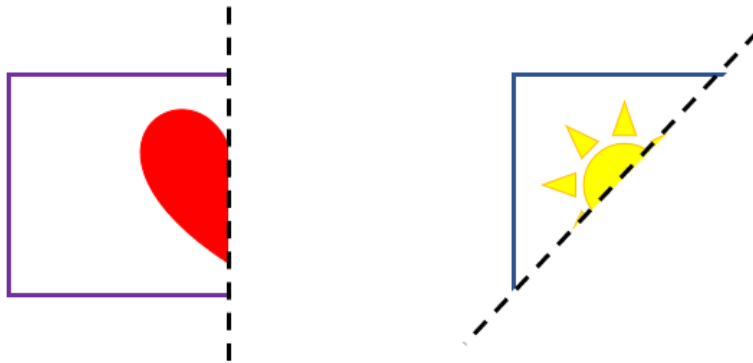
Tovább a feladathoz

Tükrözés

5) a) Hol lehet a tükörtengelye egy téglalapnak és egy négyzetnek?

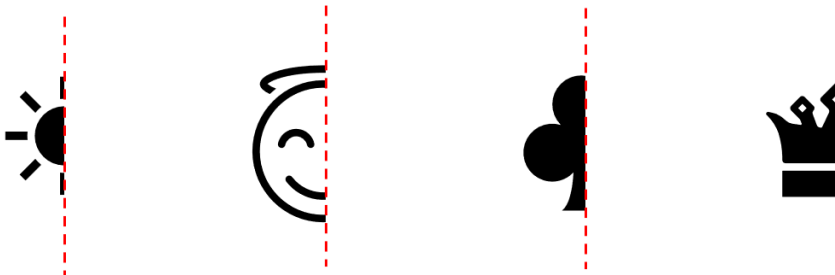


b) Tükrözzünk a tükörtengely mentén!



Tovább a feladathoz

6) Rajzoljuk be az ábrák tükörképét!



Tovább a feladathoz