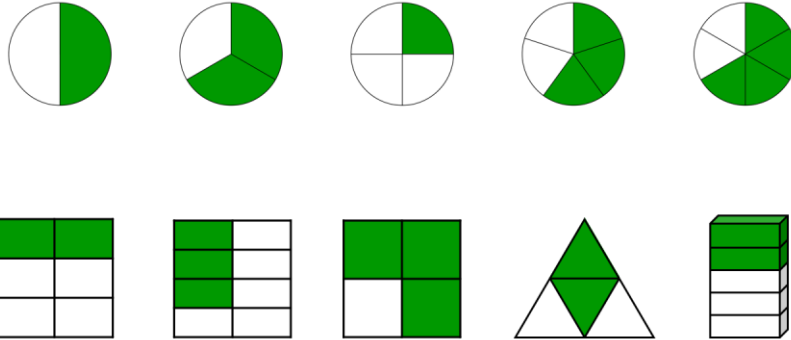


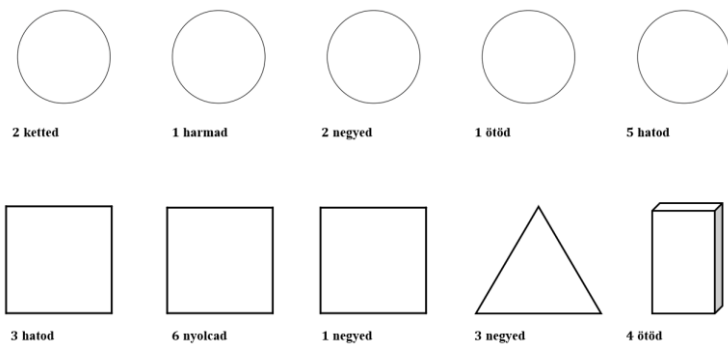
# Ismerkedés a törtekkel

1) Az alábbi alakzatok hanyad része van beszínezve?



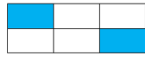
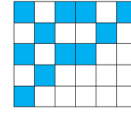

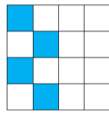
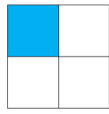
Tovább a feladathoz

2) Színezzük be az alakzatokat úgy, hogy az alattuk lévő törtnek megfeleljenek!



Tovább a feladathoz

3) Hány részre vannak osztva a négyzetek és téglalapok? Hányad részük kék?



Tovább a feladathoz

4) Van egy 24 cm hosszú zsinórunk. Hány mm a zsinór fele, harmada, negyede, hatoda és nyolcada?

Tovább a feladathoz

5) Gábor szülinapi tortája 10 szeletből állt, amiből a fele megmaradt. Tudjuk, hogy Gábor ette meg a torta ötödét, az anyukája ette meg a torta tizedét, és a többit az apukája ette meg.

- Hányad részét ette meg a tortának Gábor apukája?
- Ki evett a legtöbbet?

Tovább a feladathoz